

МИНИСТАРСТВО ПРОСВЕТЕ, НАУКЕ И ТЕХНОЛОШКОГ РАЗВОЈА  
РЕПУБЛИКЕ СРБИЈЕ  
И СРПСКО ГЕОГРАФСКО ДРУШТВО

---

ОКРУЖНО ТАКМИЧЕЊЕ ИЗ ГЕОГРАФИЈЕ  
ЗА 8. РАЗРЕД



Београд, 2018.



Укупан број бодова: 100

Такмичар је на тесту освојио \_\_\_\_\_ бодова

Чланови комисије:

1) \_\_\_\_\_

2) \_\_\_\_\_

3) \_\_\_\_\_

### УПУТСТВО ЗА РАД

Пред вама је тест знања из географије за 8. разред. На крају сваког питања (број у загради) уписан је број могућих бодова којима се вреднују одговори.

На текстуална питања одговор је потребно написати читко, без прецртавања, обавезно хемијском оловком. Поједини задаци садрже вишеструки избор. Потребно је пронаћи тачан или тачне одговоре и заокружити слова које се налазе испред њих. Ако заокружите више одговора од траженог броја, задатак се неће признати. Код задатака типа допуњавања, захтев је дат у облику непотпуног исказа. Потребно је допунити или завршити реченице да би исказ био тачан и јасан. Код неких питања задаци су дати у две колоне. Ваш задатак је да повежете, тј. "спарите" податке из колоне, тако што ћете читко уписивати слова из једне колоне на линије које се налазе испред друге колоне (спаривања стрелицама или дописивање неће се вредновати). Код задатака где се тражи да упишете одговоре на линије, упишите их јасно и тачно, без накнадног прецртавања и дописивања одговора.

На директна питања потребно је одговорити кратко и јасно. Прецртавање или накнадно дописивање одговора се неће вредновати.

Време за решавање свих задатака је 90 минута. Уколико завршите раније, тихо и без ометања других такмичара, можете изаћи из учионице.

Наглашавамо да се у тесту не уписује име и презиме, нити иницијали ученика који ради тест.

**Желимо вам пуно успеха у раду!**

Задатке предложили:

др Марко Јоксимовић  
мср Ивана Ђорђевић

Рецензент:

проф. др Славољуб Јовановић



1. Зашто границе Србије нису етничке? Заокружи слово испред тачног одговора.

- а) зато што раздвајају припаднике истог народа
- б) зато што раздвајају припаднике различитог народа
- в) зато што Србија није део Европске Уније (1x2=2)

2. Допуни реченицу и заокружи слово испред тачног одговора. Црвеница је у Србији највише заступљена на просторима које одликују \_\_\_\_\_ стене. Према томе, највише је заступљена на простору:

- а) Стига (1x1=1)
- б) У долинама великих река
- в) Карпатских и Балканских планина
- г) Српско-македонске масе (1x3=3)

3. Уколико наведени град има пораст броја становника на празној линији испред града напиши број 1, а ако град има пад броја становника упиши број 2.

- \_\_\_\_\_ Трговиште
- \_\_\_\_\_ Нови Сад
- \_\_\_\_\_ Гаџин Хан
- \_\_\_\_\_ Нови Пазар
- \_\_\_\_\_ Бабушница (5x1=5)

4. Заокружи слова испред тачних одговора. Фактори који утичу на дуже задржавање снежног покривача у Србији су:

- а) надморска висина
- б) количина падавина
- в) типови стена од којих су изграђене планине
- г) температура ваздуха
- д) висина доње снежне границе (3x1=3)

5. Поређај наведене облике рељефа Баната према надморској висини, тако што ћеш испред најнижег уписати број 1, испред нешто вишег уписати број 2, а испред највишег уписати број 3:

- \_\_\_\_\_ алувијална равна Дунава
- \_\_\_\_\_ Вршачке планине
- \_\_\_\_\_ Делиблатска пешчара (3x1=3)

6. Заокружи слово испред тачног одговора. Који природни услови су погодни за узгајање винове лозе?

- а) алувијала земљишта у долинама великих река
- б) хладнија клима и подзоласта земљишта
- в) осунчани, брежуљкасти и брдски терени са песковитим земљиштем (1x1=1)

7. У наведеним реченицама **подебљаним** словима су наведени појмови од којих је један тачан, а један нетачан. Подвуци појам који је тачан.

- а) У односу на општине које се налазе у југозападној Србији, општине у Шумадији су **густо / ретко** насељене.
- б) Због природног прираштаја у Прешеву се укупан број становника **повећава / смањује**.
- в) Према последњем попису становништва природни прираштај у Централној Србији је **негативан / позитиван**.

(3x1=3)

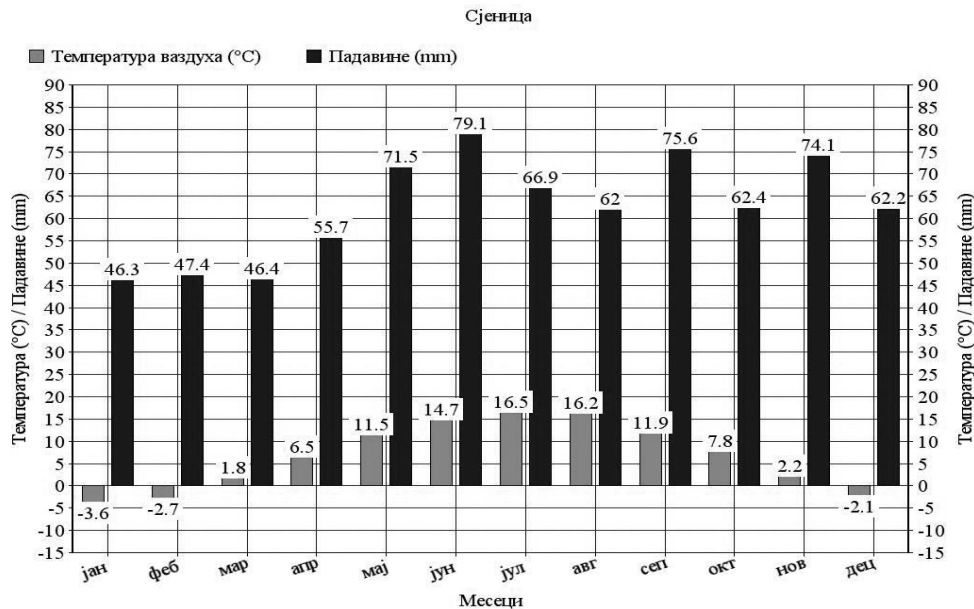


8. Са којим градовима је Нови Сад повезан пловним рекама?

- а) Смедерево
- б) Кикинда
- в) Ћуприја
- г) Шабац

(2x2=4)

9. Приказан је климадијаграм метеоролошке станице Сјеница. Анализирај климадијаграм и одговори на следећа питања.



Подвуци појам који је тачан.

Просечне месечне температуре ваздуха у Сјеници од јула месеца **расту** / **опадају**.

Допуни реченице.

Први месец са позитивном температуром ваздуха је \_\_\_\_\_, а последњи \_\_\_\_\_.

Количина падавина расте од марта до месеца \_\_\_\_\_.

Заокружи слово испред тачног одговора. Током године, најмање падавина је у периоду:

- а) јун - август
- б) мај - новембар
- в) јануар – март

(5x2=10)

10. Заокружи слова испред тачних одговора. Зашто је кукуруз најзаступљенији у структури засејаних површина у Србији?

- а) јер се доста користи за исхрану стоке и као сировина у индустрији
- б) јер захтева плодно земљиште, топлоту и влагу
- в) јер се гаји до 900m надморске висине и успева и на земљишту које је мање плодно
- г) јер се користи као сировина за производњу алкохолних пића
- д) јер се извози у друге државе

(3x2=6)

11. Заокружи слова испред тачних одговора. Због чега је у полном саставу становништва Србије веће учешће жена?

- а) зато што је већа смртност мушкараца
- б) зато што се у Србији у просеку роди 106-107 девојчица у односу на 100 дечака
- в) зато што жене просечно живе до шест година дуже од мушкараца

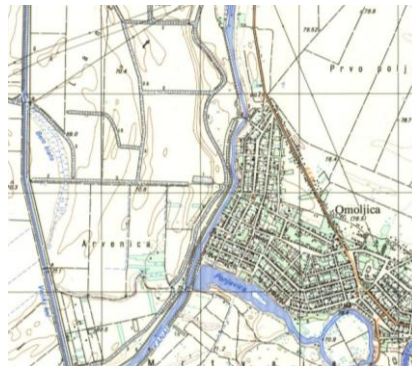
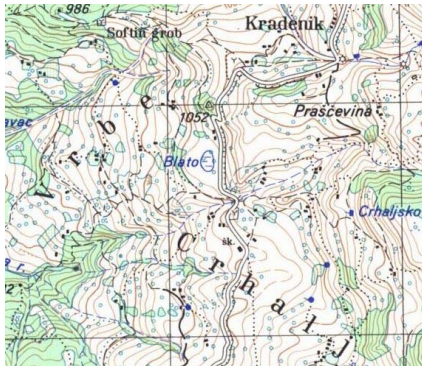
(2x2=4)



12. Планинска и панонска област у Србији разликују се према природним одликама. У празна поља у табели упиши одговарајуће појмове и тако их разврстај према областима којима припадају:  
**подзол, топола, мрки медвед, континентална клима, јела, чернозем.** (6x1=6)

| Панонска област | Планинска област |
|-----------------|------------------|
|                 |                  |
|                 |                  |
|                 |                  |

13. Анализирај приложене топографске карте и на празној линији поред карте упиши број 1 ако приказује насеља разбијеног типа, а број 2 ако приказује насеље збијеног типа.



(2x1=2)

Заокружи слово испред тачног одговора. Због чега су насеља у Војводини и Мачви углавном збијеног типа?

- а) зато што је на њихов развој утицала турсто-источњачка цивилизација
- б) зато што су у већини случајева настала неплански
- в) зато што су у већини случајева настала плански

(1x2=2)

14. Заокружи слово испред тачног одговора. Уколико би се, због већег захлађења, снежна граница у Србији спустила на 2.500 m надморске висине, под вечитим снегом и ледом, нашли би се врхови:

- а) Копаоника
- б) Старе Планине
- в) Шар Планине
- г) Бесне Кобиле

(1x3=3)

15. Заокружи слово испред тачног одговора. Које вештачно језеро у Србији се налази на највишој надморској висини:

- а) Потпећко
- б) Златарско
- в) Власинско

Допуни реченицу. Ова језеро је настало преграђивањем реке: \_\_\_\_\_.

(2x1=2)

16. Написане су тврдње које се односе на структуру становништва Србије. Уколико је тврдња тачна заокружи слово Т, а ако је тврдња нетачна заокружи слово Н.

- Највећи број запослених у Србији ради у примарном сектору. Т Н
  - Највећи удео становништва Србије старијег од 15 година има завршену средњу школу. Т Н
  - Словаци су најзаступљенији на територији општине Бачка Топола. Т Н
  - У Централној Србији процентуално учешће младог и старог становништва је релативно уједначено. Т Н
- (4x1=4)



17. Подвуци биљку која не припада наведеном низу:

**Шећерна репа      Паприка      Хмељ      Дуван      Сунцокрет**

Због чега наведена биљка не припада датом низу? Заокружи слово испред тачног одговора.

- а) једино ова биљка припада групи индустријских биљака  
б) једино ова биљка припада групи повртарских биљака (2x1=2)

18. Заокружи тачне одговоре. Када би се равница на простору Војводине издигла изнад 500 m надморске висине дошло би до промене климе и типова земљишта. То би довело до промене у структури пољопривредне производње. У Војводини би се тада узгајале следеће културе:

**Кромпир      пшеница      парадајз      шљиве      купус** (2x3=6)

19. Уписивањем одговарајућих слова на празне линије повежи бање са долинама река у којима се налазе:

- |                      |                      |
|----------------------|----------------------|
| а) Матарушка бања    | _____ Моравица       |
| б) Гамзиградска бања | _____ Ибар           |
| в) Ковиљача бања     | _____ Западна Морава |
| г) Сокобања          | _____ Црни Тимок     |
| д) Врњачка Бања      | _____ Дрина          |
- (5x1=5)

20. Заокружи слова испред тачних одговора. Урбанизација је у Србији негативан процес зато што изазива:

- а) пражњење и гашење сеоских насеља и смањење пољопривредног становништва  
б) развој индустрије и саобраћаја  
в) проблеме обезбеђивања стамбеног простора у градовима  
г) побољшање квалитета животне средине у градовима  
д) смањење обрадивих површина (3x2=6)

21. Допуни реченицу. Водостај реке Дрине је у порасту код Бајине Баште. Очекује се да ће тај водостај повећати водостај реке \_\_\_\_\_. Она ће даље условити повећање водостаја реке \_\_\_\_\_ низводно од града \_\_\_\_\_.

(3x3=9)

22. На празну линију упиши одговарајући појам који је обележен на карти бројем.

1. Слив реке \_\_\_\_\_.
2. Планина \_\_\_\_\_.
3. \_\_\_\_\_ котлина.
4. \_\_\_\_\_ бања.

(4x2=8)

